

EJERCICIOS SELECTIVIDAD

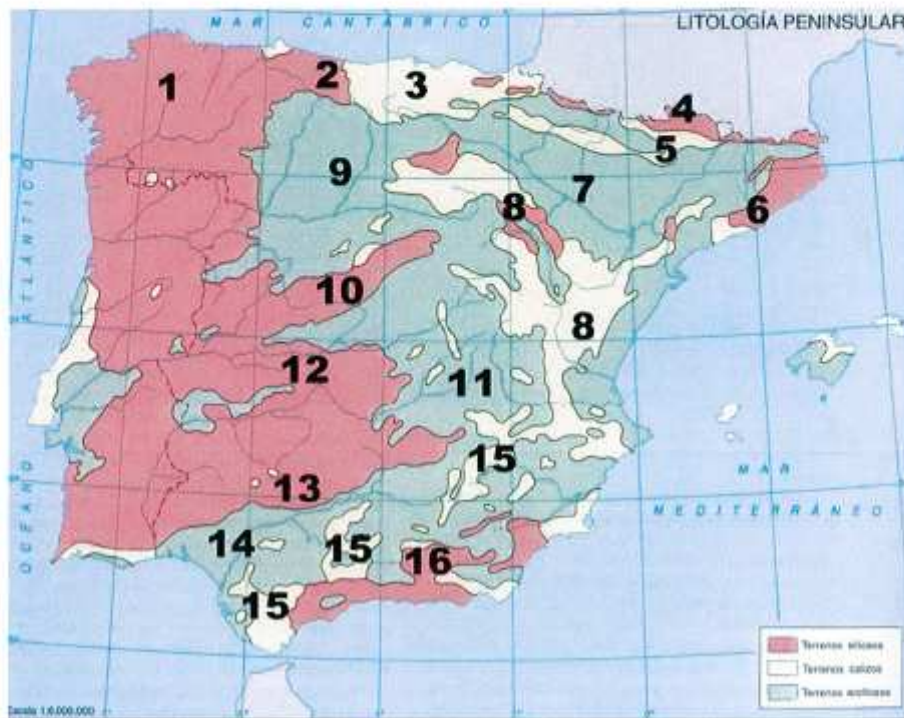
TEMA 1. EL ESPACIO GEOGRÁFICO ESPAÑOL: DIVERSIDAD GEOMORFOLÓGICA.

Selectividad 2004, 2005, 2006, 2007 y 2009

2. El mapa muestra las unidades litológicas de la Península Ibérica. Tras su observación responde a las siguientes cuestiones:

- Qué Comunidades Autónomas tienen parte o todo su territorio asentado sobre la Iberia silíceo en el Oeste peninsular. (Hasta 1 punto)
- Identifique, por separado, con sus números y nombre: las unidades de relieve interiores de la Meseta; las periféricas de la Meseta; y las exteriores a la Meseta. (Hasta 1,5 puntos)
- ¿Qué relación básica guarda cada una de estas tres Iberias con distintos usos y aprovechamientos del territorio? (Hasta 1,5 puntos)

(Valoración: hasta 4 puntos)



Selectividad 2008

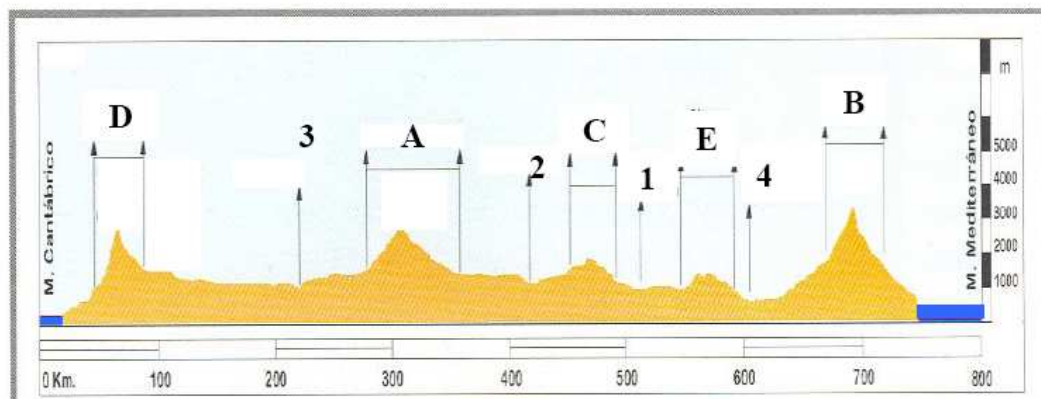
1. En la figura siguiente se representa un mapa con las regiones costeras españolas. Analicelo y conteste a las siguientes preguntas:
 - a) Diga cuáles son los accidentes geográficos señalados con sendas letras. (Hasta 1 punto).
 - b) Indique el nombre de cada una de las provincias costeras numeradas. (Hasta 1 punto).
 - c) Explique las características del tramo de relieve costero que se extiende en la provincia 4, y entre las provincias 8 y 9, así como la importancia turística y el nombre que recibe cada una de esas costas. (Hasta 2 puntos).

(Valoración: hasta 4 puntos)



Selectividad 2003, 2004, 2005 y 2007

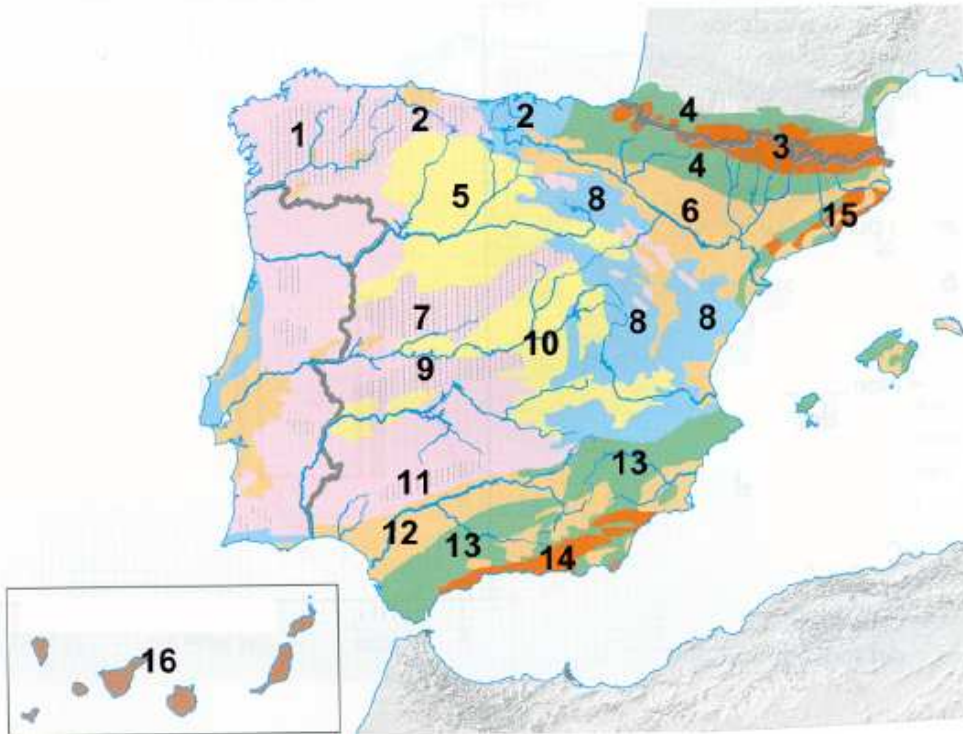
2. En el gráfico se representa un perfil topográfico de la Península Ibérica desde el Mar Cantábrico al Mar Mediterráneo. Analicelo y conteste a las preguntas siguientes:
 - a) Diga el nombre, y la letra correspondiente, de los sistemas montañosos que aparecen en el gráfico, ordenados en sentido Norte-Sur.
 - b) Diga el nombre, y los números correspondientes, de los ríos que aparecen en el gráfico, ordenados de Sur a Norte.
 - c) De los sistemas montañosos, diga, con letra y nombre, cuáles de ellos son: interiores a la Meseta, exteriores a la Meseta, y periféricos a la Meseta. (Valoración: hasta 3 puntos)



Selectividad 2002, 2004 y 2006

2. El mapa representa las unidades morfoestructurales de España. Analízelo y responda a las siguientes preguntas:

- Relacione, con nombre y número, las unidades de relieve exteriores a la Meseta
- Relacione, con nombre y número, las unidades de relieve interiores y periféricas de la Meseta.
- Partiendo de los tres principales tipos de roquedos de la Península, nómbralos y añádales los números que cada uno de ellos tiene superpuestos. ¿Qué rocas predominan en el 16?
(Valoración: hasta 3 puntos)

**PREGUNTAS LARGAS:****PAU 2002, 2003, 2004, 2005, 2006, 2007.**

- Unidades de relieve peninsular exteriores a la Meseta.

PAU 2002

- Relieve de la Meseta y sus unidades interiores.

PAU 2004, 2005, 2006, 2007.

- La Meseta peninsular y sus relieves interiores y periféricos: caracterización.

PAU 2004, 2008, 2009.

- Condicionantes físicos y humanos la situación geográfica de la Península Ibérica.
- La singularidad geográfica de España.

PAU 2008, 2009.

- Los grandes conjuntos morfoestructurales de la Península Ibérica, Islas Baleares e Islas Canarias.
- Caracteres generales del relieve español.